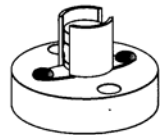


Thema : Elektriciteit      Onderwerp : basisles : materiaalkennis

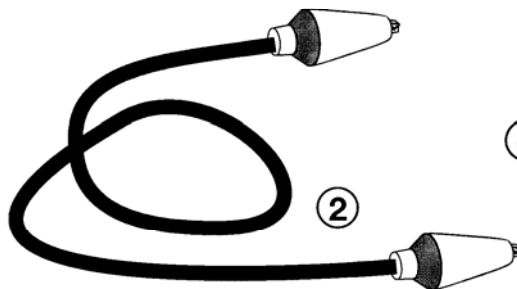
Verken al het materiaal uit je elektriciteitsdoos.  
Het is belangrijk dat je de juiste naam van het materiaal kent alvorens er mee aan de slag te gaan!




① \_\_\_\_\_



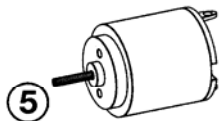
③ \_\_\_\_\_



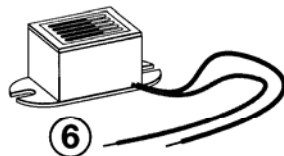
\_\_\_\_\_



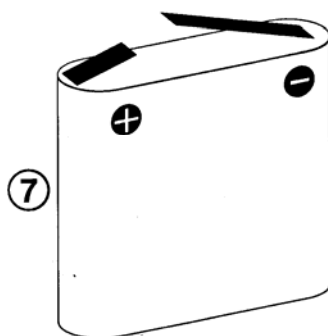
\_\_\_\_\_



\_\_\_\_\_



\_\_\_\_\_



\_\_\_\_\_

Bekijk nauwkeurig deze artikelen en zet een kruis achter het onderdeel wanneer je het materiaal hebt herkend.

Lampfitting	1	
Geleiddraad	2	
Gloeilamp	3	
Schakelaar	4	
Motor	5	
Zoemer	6	
Platte batterij	7	

Schrijf nu de juiste naam bij het onderdeel.



**EVALUATIE**

1. Wat heb je ontdekt of geleerd uit deze opdracht ? (noteer kort !)

.....

.....

Dit wist ik al

Dit wist ik nog niet